

1er Trimestre

## Ideas para escribir mejor

Español

## Descubre más palabras



Los antónimos son aquellas palabras cuyos significados son exactamente opuestos entre sí, es decir, que significan lo contrario la una de la otra.

Recorta y pega en tu cuaderno las parejas de antónimos.





			
día	sucio	pequeño	abierto
			
adentro	noche	atrás	feliz
			
cerrado	triste	limpio	abajo
			
grande	afuera	arriba	enfrente



Mundo ABC



Resuelve lo más rápido posible.



## Plumas y lápices

Mundo ABC

Observa el ejemplo y escribe la mayor cantidad de combinaciones posibles.

**56**


$$50+6=$$


**15**

$$14+1=$$


**42**

$$20+20+2=$$

ANEXO 4




**Venta de comida**

Mundo ABC

Ayúdala a Valeria a sacar la cuenta de cada pedido que vendió en la feria del pueblo.



Taco \$12



globos \$10



Hot-dog \$15




Algodones \$8



Neve \$16



Agua \$6



Palomitas \$20

**PACO**

2 tacos  
1 nieve  
1 agua

\$ TOTAL

**BRENDA**

globos  
3 algodones  
1 hot-dog

\$ TOTAL

**GABY**

3 nieves  
1 taco  
3 algodones

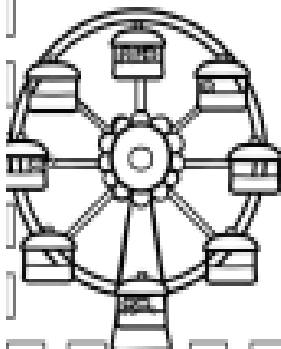
\$ TOTAL

**DIANA**

2 palomitas  
2 aguas

TOTAL

\$



1er Trimestre

Trayecto 3- Sumas y restas hasta el 100

Español

## Alrededor del 10

Mundo ABC

Recorta y pega en donde corresponda el número que falta para que el resultado de 10.

$$7 + \square = 10$$

$$6 + \square = 10$$

$$3 + \square = 10$$

$$4 + \square = 10$$

$$8 + \square = 10$$

$$1 + \square = 10$$

$$2 + \square = 10$$

$$5 + \square = 10$$

$$9 + \square = 10$$

5

3

4

8


2

1

9

6

7



Mes Septiembre

Ámbito: Comportamiento del movimiento



## El movimiento es vida.


1.- Lee la siguiente lista, analiza y reflexiona y anota una "S" (SIEMPRE), "E" (EN OCACIONES) o "N" (NUNCA) en el recuadro según realices cada situación.

Situación	Frecuencia
Practico algún deporte o actividad recreativa.	
Salgo a jugar con amigos o familiares.	
Permanezco mas de 4 horas viendo televisión o celular.	
Cuando voy a algún lugar regularmente lo hago caminando.	
Me muevo más de lo que permanezco sentado o quieto	


**RETO:** Realiza los siguientes ejercicios, colorea las imágenes y coloca una ✓ si pudiste realizarlo o un X si no lo lograste.




Salta 20 veces seguida la cuerda.




Lanza 20 veces hacia arriba la pelota y atrapa la sin que caiga.




Camina con un pie y recoge 5 objetos.





Mes Septiembre

Ámbito: Higiene y limpieza



### Mis sentidos

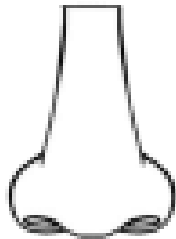
1.- Escribe el nombre a cada sentido.



\_\_\_\_\_

\_\_\_\_\_

\_\_\_\_\_



\_\_\_\_\_

\_\_\_\_\_

2.- Relaciona con una línea cada sentido con la función que realiza cada uno.

