


¿Cómo cambia nuestro medio?

1. Observa las imágenes.



Responde en tu libreta las siguientes preguntas:

- ✚ ¿Qué observas en este lugar?
- ✚ ¿Por qué crees que ocurren estos cambios?
- ✚ ¿De qué manera cuidan los niños este lugar?

ANEXO 2 / SEMANA 37



Margarita



Lola



Oscar



Mario



Eugenio



Leonora



Soledad



Lucas



Alfredo



Eduardo



Irma



Adela



Fernando



Úrsula



Víctor



Lucía



Ernesto



Julio



Hilario



Felipe



Irene



Marta



Perla




Hortensia



Rompecabezas

Este rompecabezas te ayudará a fortalecer tu habilidad de visualización al armar configuraciones que forman de 2 a 5 triángulos equiláteros iguales. Que identifiques los cuadriláteros cuando, cuando y triángulos.

Recorta las piezas y arma el rompecabezas. Identifica cuáles son las figuras que lo conforman.





Matemáticas

SEGUNDO GRADO

Mayo
Sesión 4

OBJETIVO:

Trayecto 3 Sumas y restas hasta 1000
2. - Sumas en la recta numérica

Utilizar la recta numérica para sumar números menores que 1000. SEP 167



En tu cuaderno

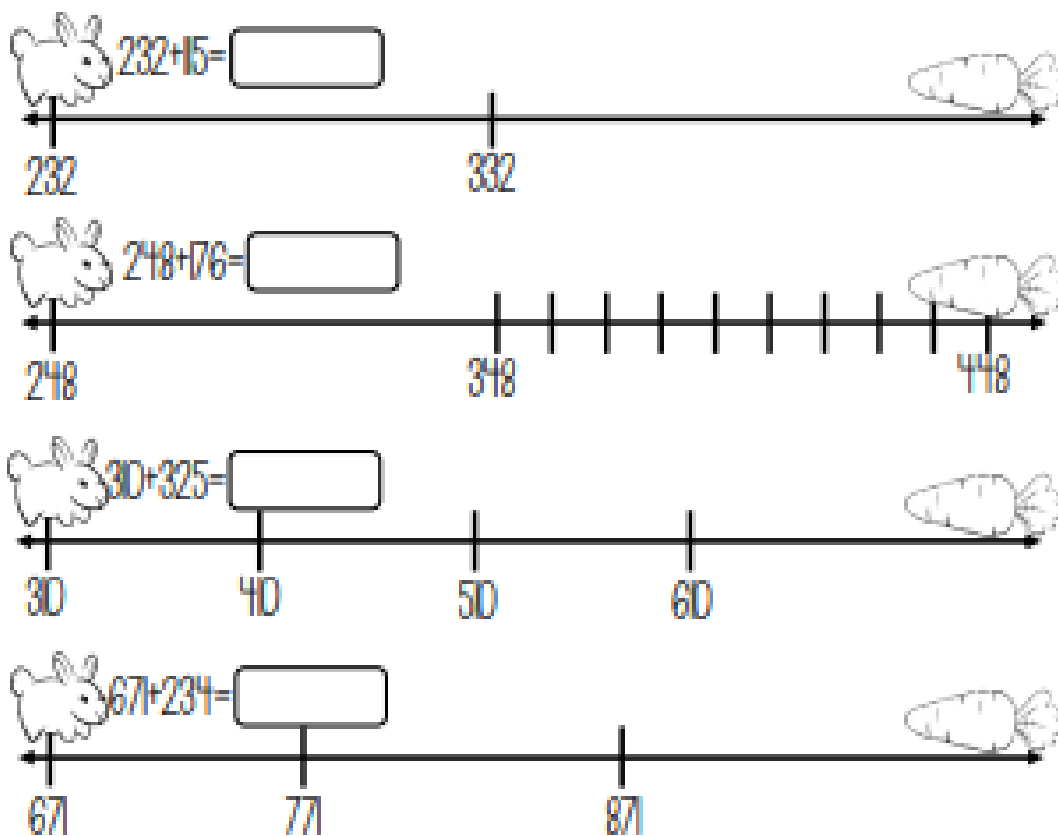
Realiza las siguientes sumas haciendo uso de la recta

+17+220- +235+340- +382+600-



Actividad

Utiliza la recta para realizar las siguientes sumas.





Mes Mayo **Ámbito -Comportamientos del movimiento**




¡A mover el cuerpo!

Instrucciones: Observa el video completo y realiza la siguiente secuencia de movimientos y coloca una ✓ a cada paso que hayas dominado.

Movimientos de baile para niños



<https://www.youtube.com/watch?v=ZivOIYmGqPA>



Agrega otros 3 pasos para hacer la secuencia más larga y dibújalos en los recuadros.