

adivinanzas



Recorta las figuras geométricas y pégalas donde correspondan.

Parezco cuadrado pero chueco estoy ¿Ya sabes quién soy?





"Solo tres lados tengo y todos ellos rectos. También tengo tres ángulos que siempre me acompañan. Si escuchas bien lo que te he dicho, yo ya te he dado mi nombre por escrito"

"De las casas el tejado soy, primero soy pequeño y luego me hago grande"



Mundo ABC



adivinanzas




Recorta las figuras geométricas y pégalas donde correspondan.

"Recto soy por todos mis lados. Tengo la forma de una puerta aunque seguro ya habrás adivinado quien soy"





"Como un cuadro soy y hasta el nombre parecido tengo ¿Ya sabes quién soy?"

"Puedo ser un ojo o un bari sin fondo. Lo cierto es que si me dibujas, no tengo lados y soy bien redondo"



Mundo ABC



Junta 100 con el dado



Escribe el número que se forma. Considerando el resultado del primer dado como decena y del segundo como unidad. Al final suma las cantidades.

tiro 1	tiro 2	decenas	unidades	puntos
		30	2	32
Suma total de puntos				

Mundo ABC

1-¿Cuántos puntos hizo en total Mónica? _____

2-¿Con cuántos puntos se pasó Mónica, si solo ocupaba 100?

1er Trimestre

Trayecto 1 Otra vez 100

Español

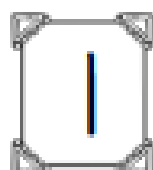
¿Quién tiene más?



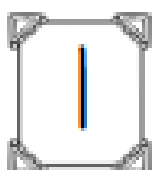
Forma cuatro números de dos cifras; luego escríbelos en la línea y apunta el número mayor que se formó.



El número mayor fue:



El número mayor fue:



El número mayor fue:

