



Ideas para escribir mejor

- Con C o con QU

Elige y completa correctamente la palabra



an__ano
ci qui



__sne
ci qui



má__na
ci qui



__que
Ci Qui



mos__to
ci qui



pan__
cé qué



__lia
Ce Que



ma__ta
ce que



__so
ce que



dul__
ce que



poli__a
cí quí



es__leto
ce que



pa__te
ce que



__ne
ci qui



pe__s
ce que



do__
ce que



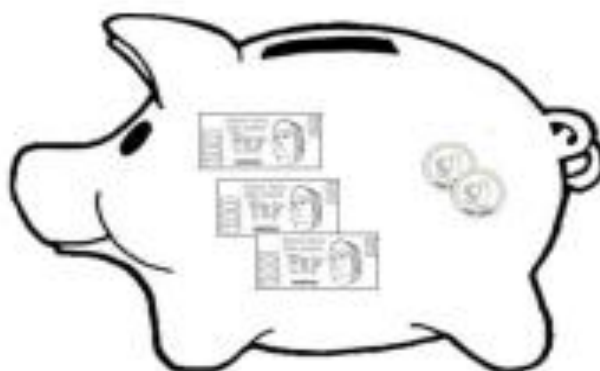
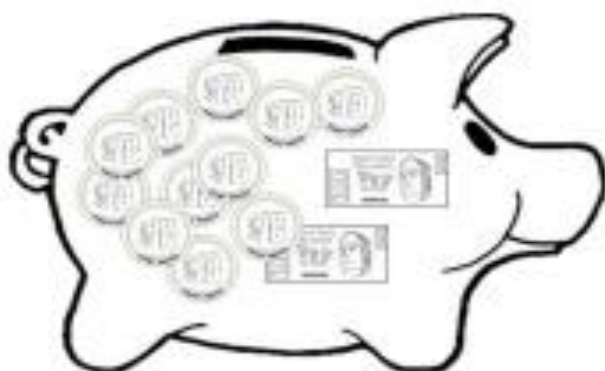
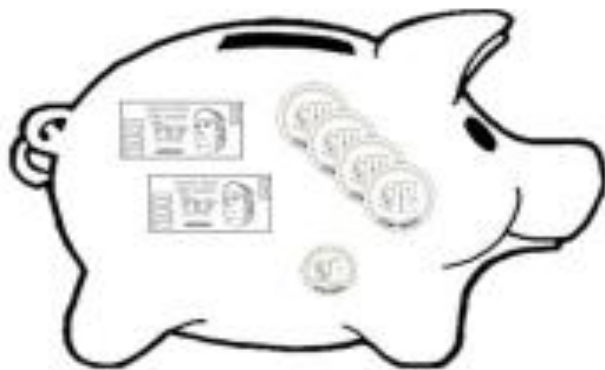
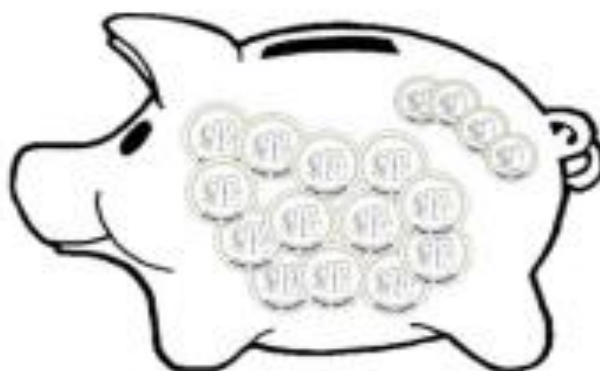
2º

MÁS SOBRE EL 100

2. ¿Quién tiene más?



Instrucciones: Observa las cantidad en cada par de cerdito que se encuentra de frente y colorea el que contenga más dinero.



MATEMÁTICAS *Zany* **BLOQUE 3**

QUE LOS ALUMNOS
comparen, clasifiquen hasta 1000 representados por medio de
descomposiciones o de símbolos numéricos 100, 500

Logrado En desarrollo Requiere apoyo

2. ¿Quién tiene más?

The exercise consists of eight piggy banks arranged in two columns and four rows. Each piggy bank contains a different set of coins and banknotes. The coins are labeled with '100' and '500', and the banknotes are labeled with '1000'. The goal is to compare the total value of the contents in each piggy bank.

Todos los derechos reservados - Materiales Zany®

