

Anuncios por todos lados

Coloca la letra que corresponda en cada uno de los círculos que indican algunas características del cartel.



- a.- Frase publicitaria
- b.- Dirección
- c.- Imagen relacionada al tema
- d.- Teléfono
- e.- Producto o servicio

Contesta las siguientes preguntas:

1- ¿Qué producto o servicio ofrece el cartel? _____

2- ¿En dónde se encuentra ubicado el producto o servicio que ofrecen? _____

3- ¿Cuál es su frase publicitaria? _____

4- ¿Qué debes de hacer para pedir una cita? _____

5- ¿A qué se dedican los dentistas? _____



El juego pasta!

Busca en el siguiente juego de pasta las palabras que están mal escritas y enciérralas; luego escríbelas de manera correcta en los recuadros de abajo.

NOMBRE	APELLIDO	COSA	ANIMAL	FRUTA O VERDURA
Ánjel	Alanís	ala	asno	ajuacate
Bety	Bueno	bote	buro	banana
Cristian	Castro	colorez	cavallo	calabaza
Diana	Durán	dedo	dinozaurio	durasno
Ema	Estrada	eztreya	elefante	egote

Mundo ABC



.....
-------	-------	-------

.....
-------	-------	-------

.....
-------	-------	-------

1er Trimestre

Trayecto 5- introducción a la multiplicación

Español

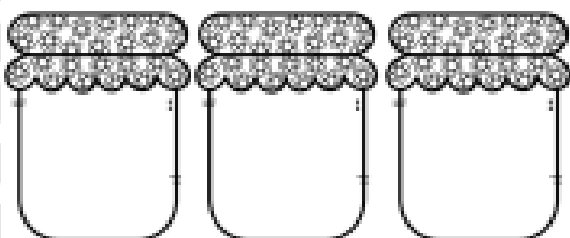
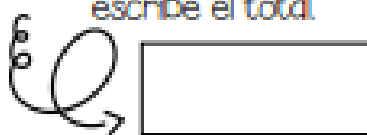
frijoles y vasos



Sigue las indicaciones.




Dibuja 3 canicas en cada frasco y escribe el total



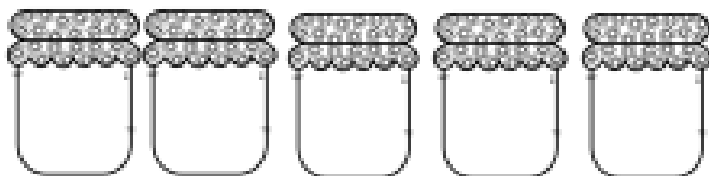
Dibuja 5 galletas en cada frasco y escribe el total



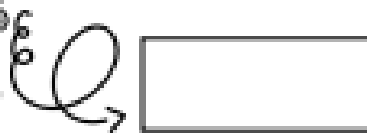
Dibuja 2 dulces en cada frasco y escribe el total



Mundo ABC



Dibuja 6 frijoles en cada frasco y escribe el total



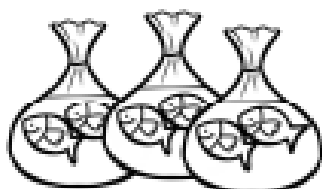
Dibuja 4 canicas en cada frasco y escribe el total



Raquetes y galletas

Une con una línea de diferente color el total de cosas para cada caso.


Mundo ABC




18



20



12



6



16



Las frutas


Resuelve las siguientes sumas.

Mundo ABC



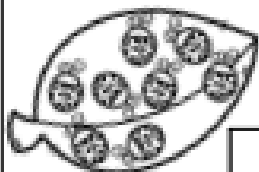
3 niñas se sirvieron 3 alimentos cada una. ¿Cuántos alimentos fueron en total?

	+		+		=	
--	---	--	---	--	---	--



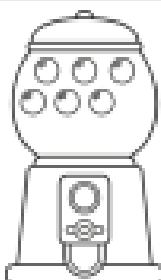
Si hay 4 peceras iguales. ¿Cuántos pesos son en total?

	+		+		+		=	
--	---	--	---	--	---	--	---	--



Si hay 6 hojas con la misma cantidad de insectos. ¿Cuántos insectos hay en total?

	+		+		+		+		=	
--	---	--	---	--	---	--	---	--	---	--



Si hay 5 maquinas de chicles con la misma cantidad de chicles. ¿Cuántos chicles hay en total?

	+		+		+		+		=	
--	---	--	---	--	---	--	---	--	---	--



1er Trimestre

Tiempo de leer


Español

Mi libro de lecturas

Elige un cuento de tu libro de lecturas para responder lo siguiente.

TÍTULO

1- Dibuja tu parte favorita.



LO QUE MÁS ME GUSTÓ FUE

